	<b>COLEGIO MANZANARES</b> "calidad humana nuestra filosofía educación integral nuestra razón de ser"					Versión <b>2019</b>	
	<b>TALLER DE APOYO</b>						
<b>AREA</b>	Ciencias naturales	<b>PERIODO</b>	1	<b>GRADO</b>	3°	<b>TEMA</b>	Y
<b>DOCENTE</b>	Lucia Carmona	<b>ALUMNO</b>					

<b>TALLER</b>	Se demuestra claridad en el uso del vocabulario y manejo de conceptos, el taller se resuelve de acuerdo a lo estudiado en clases. No se presentan errores de ningún tipo.	El taller se realiza con una aproximación considerable a lo solicitado; presenta errores mínimos en el manejo de conceptos.	Se presenta lo mínimo o la mitad de lo solicitado. Es notoria que hace falta profundizar en los temas estudiados.	El taller se desarrolla pobremente, es notorio que no le puso empeño, no se cuenta con los materiales necesarios o realizara otras actividades en su lugar.	No se realiza la actividad y no demuestra interés en presentar el trabajo solicitado.
---------------	---	---	---	---	---

**1. Escribe el significado de los siguientes términos relacionados con la alimentación de los animales. Dar dos ejemplos de cada uno.**

- Herbívoros:

\_\_\_\_\_

- Carnívoros:

\_\_\_\_\_

- Omnívoros:

\_\_\_\_\_

- Granívoros:

\_\_\_\_\_

**2. Relaciona la columna A con la columna B.**

- A. Autótrofo                    ( ) Los que no tienen columna o huesos.
- B. Heterótrofo                ( ) Los que tienen columna o huesos.
- C. Invertebrados              ( ) Los que fabrican su propio alimento.
- d. Vertebrados.                ( ) Los que se alimentan de plantas y animales.

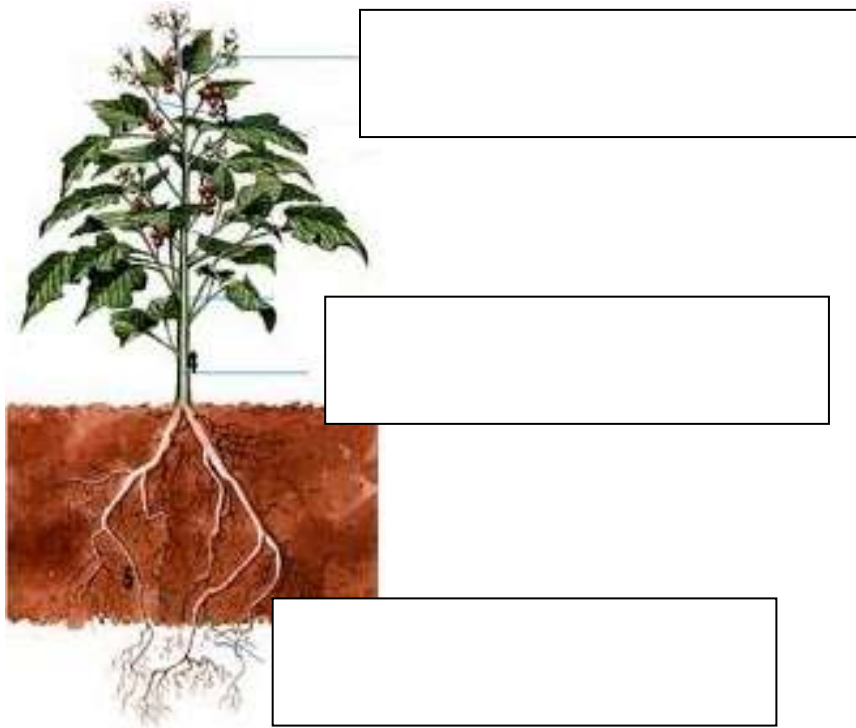
**3. Dibuja un animal según su respiración.**

BRANQUIAL	PULMONAR	CUTANEA	TRAQUEAL

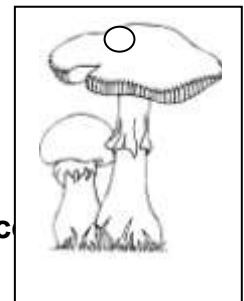
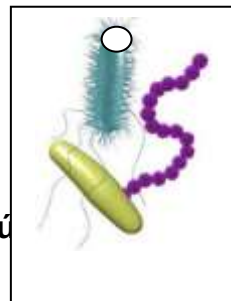


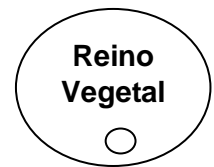
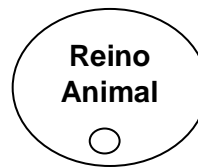
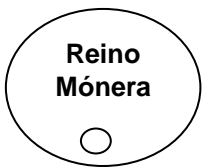
**4. Escribe TRES reinos de la naturaleza y una característica de cada una.**

- \_\_\_\_\_
- \_\_\_\_\_
- \_\_\_\_\_

**5. Ubica en el esquema de la planta sus partes y escribe su función.**



6. Une con un a línea la imagen de cada ser vivo con el nombre del reino al que pertenece.



7. Escribe la diferencia entre animales vertebrados e invertebrados.

Invertebrados

Vertebrados

8. Busca en la siguiente sopa de letras los 5 reinos de la naturaleza y de un organismo que pertenece a cada uno.

A	N	I	M	A	L	G	P	F	B
D	F	G	J	K	L	D	R	U	A
C	H	A	M	P	I	Ñ	O	N	C
Z	F	G	H	J	K	L	T	G	T
V	E	G	E	T	A	L	I	I	E
B	U	I	S	D	R	E	S	I	R
M	O	N	E	R	A	W	T	U	I
A	B	R	T	L	Ñ	R	A	Y	A
A	M	E	B	A	A	S	H	T	S

9. Escribe 3 formas de cuidar las plantas.

---



---



---

10. Escribe 3 formas de cuidar los animales.

---



---



---

11. Dar 5 ejemplos de animales vertebrados y cinco de animales invertebrados.

**VERTEBRADOS**

**INVERTEBRADOS**